

<input type="checkbox"/> 0	<input type="checkbox"/> 0	<input type="checkbox"/> 0	<input type="checkbox"/> 0	<input type="checkbox"/> 0	<input type="checkbox"/> 0	<input type="checkbox"/> 0	<input type="checkbox"/> 0
<input type="checkbox"/> 1	<input type="checkbox"/> 1	<input type="checkbox"/> 1	<input type="checkbox"/> 1	<input type="checkbox"/> 1	<input type="checkbox"/> 1	<input type="checkbox"/> 1	<input type="checkbox"/> 1
<input type="checkbox"/> 2	<input type="checkbox"/> 2	<input type="checkbox"/> 2	<input type="checkbox"/> 2	<input type="checkbox"/> 2	<input type="checkbox"/> 2	<input type="checkbox"/> 2	<input type="checkbox"/> 2
<input type="checkbox"/> 3	<input type="checkbox"/> 3	<input type="checkbox"/> 3	<input type="checkbox"/> 3	<input type="checkbox"/> 3	<input type="checkbox"/> 3	<input type="checkbox"/> 3	<input type="checkbox"/> 3
<input type="checkbox"/> 4	<input type="checkbox"/> 4	<input type="checkbox"/> 4	<input type="checkbox"/> 4	<input type="checkbox"/> 4	<input type="checkbox"/> 4	<input type="checkbox"/> 4	<input type="checkbox"/> 4
<input type="checkbox"/> 5	<input type="checkbox"/> 5	<input type="checkbox"/> 5	<input type="checkbox"/> 5	<input type="checkbox"/> 5	<input type="checkbox"/> 5	<input type="checkbox"/> 5	<input type="checkbox"/> 5
<input type="checkbox"/> 6	<input type="checkbox"/> 6	<input type="checkbox"/> 6	<input type="checkbox"/> 6	<input type="checkbox"/> 6	<input type="checkbox"/> 6	<input type="checkbox"/> 6	<input type="checkbox"/> 6
<input type="checkbox"/> 7	<input type="checkbox"/> 7	<input type="checkbox"/> 7	<input type="checkbox"/> 7	<input type="checkbox"/> 7	<input type="checkbox"/> 7	<input type="checkbox"/> 7	<input type="checkbox"/> 7
<input type="checkbox"/> 8	<input type="checkbox"/> 8	<input type="checkbox"/> 8	<input type="checkbox"/> 8	<input type="checkbox"/> 8	<input type="checkbox"/> 8	<input type="checkbox"/> 8	<input type="checkbox"/> 8
<input type="checkbox"/> 9	<input type="checkbox"/> 9	<input type="checkbox"/> 9	<input type="checkbox"/> 9	<input type="checkbox"/> 9	<input type="checkbox"/> 9	<input type="checkbox"/> 9	<input type="checkbox"/> 9

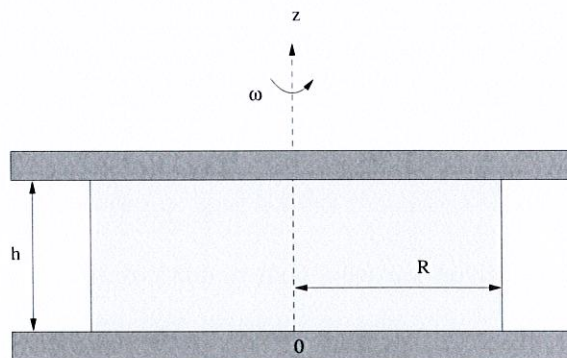
← codez votre numéro d'étudiant ci-contre, et écrivez votre nom et prénom ci-dessous.

Nom et prénom :

Durée : 2h00 - Formulaire opérateurs différentiels autorisé - calculatrice collège autorisée.

Exercice 1 :

On considère l'écoulement **permanent** d'un film de fluide cylindrique de rayon R et de faible épaisseur h entre deux plaques circulaires parallèles horizontales situées en $z = 0$ et $z = h$. La **plaque inférieure est supposée fixe** tandis que le **plaque supérieure est animée d'un mouvement de rotation uniforme à la vitesse angulaire ω** (voir figure). Le fluide visqueux entre les deux plaques est **incompressible et newtonien**, de viscosité dynamique μ . Les **actions de volume (forces de pesanteur) sont négligeables**, et on suppose que la vitesse de rotation est suffisamment faible pour que **les termes d'accélération des équations de Navier-Stokes (dérivée particulaire de la vitesse) soient également négligeables**.



On admet alors, compte tenu de ces hypothèses et de la géométrie du problème, que le champ des vitesses exprimé dans le repère local $(\vec{e}_r, \vec{e}_\theta, \vec{e}_z)$ associé au système de coordonnées cylindriques (r, θ, z) est de la forme $\vec{v} = v_\theta(r, z) \vec{e}_\theta$ où v_θ est une fonction inconnue dépendant de r et z que l'on cherche à déterminer. On désigne par p_{atm} la pression atmosphérique en $r = R$ et par $p(r, z)$ la pression dans le fluide que l'on cherche à déterminer également.



1. Vérifier l'incompressibilité du fluide.

F J *Ne pas cocher - Réservé au correcteur*

.....

.....

.....

.....

2. On donne l'expression des équations de Navier-Stokes en coordonnées cylindriques pour un fluide incompressible :

$$\begin{aligned} \rho \frac{dV_r}{dt} &= \rho f_r - \frac{\partial p}{\partial r} + \mu \left[\frac{\partial^2 V_r}{\partial r^2} + \frac{1}{r^2} \frac{\partial^2 V_r}{\partial \theta^2} + \frac{\partial^2 V_r}{\partial z^2} + \frac{1}{r} \frac{\partial V_r}{\partial r} - \frac{2}{r^2} \frac{\partial V_\theta}{\partial \theta} - \frac{V_r}{r^2} \right] \\ \rho \frac{dV_\theta}{dt} &= \rho f_\theta - \frac{1}{r} \frac{\partial p}{\partial \theta} + \mu \left[\frac{\partial^2 V_\theta}{\partial r^2} + \frac{1}{r^2} \frac{\partial^2 V_\theta}{\partial \theta^2} + \frac{\partial^2 V_\theta}{\partial z^2} + \frac{1}{r} \frac{\partial V_\theta}{\partial r} + \frac{2}{r^2} \frac{\partial V_r}{\partial \theta} - \frac{V_\theta}{r^2} \right] \\ \rho \frac{dV_z}{dt} &= \rho f_z - \frac{\partial p}{\partial z} + \mu \left[\frac{\partial^2 V_z}{\partial r^2} + \frac{1}{r^2} \frac{\partial^2 V_z}{\partial \theta^2} + \frac{\partial^2 V_z}{\partial z^2} + \frac{1}{r} \frac{\partial V_z}{\partial r} \right] \end{aligned}$$

2.1. Montrez que la pression $p(r, z) = K_1$ où K_1 est une constante que l'on précisera.

F P1 J *Ne pas cocher - Réservé au correcteur*

.....

.....

.....

.....

.....

.....

.....

.....

2.2. Déduire l'équation aux dérivées partielles dont v_θ doit être solution.

F P1 J *Ne pas cocher - Réservé au correcteur*

.....

.....

.....



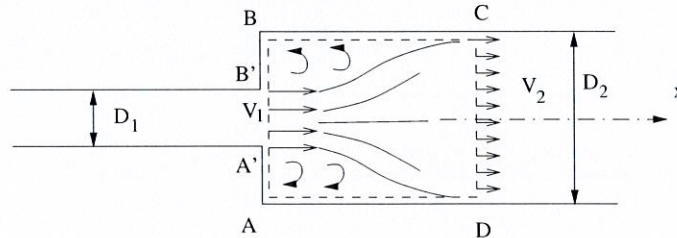
6. Calculer le couple C exercé par le fluide sur la plaque supérieure du viscosimètre et dont la mesure permet la détermination du coefficient de viscosité μ en fonction de ω , R et h .

F P1 J *Ne pas cocher - Réservé au correcteur*

.....
.....
.....
.....
.....
.....
.....
.....

Exercice 2 :

On considère deux **conduites cylindriques** coaxiales de diamètres D_1 et D_2 ($D_2 > D_1$). L'expérience montre qu'à la sortie de la conduite de diamètres D_1 il se forme **un jet de diamètre D_1** dont on suppose la vitesse V_1 uniforme. Il y a décollement des lignes de courant et formation d'une zone de recirculation (fluide mort à **vitesse nulle** entre AA' et BB' sur la figure), mais la **pression motrice p_1^* reste constante en moyenne dans la section AB** . À une distance suffisante en aval, la **vitesse V_2 redevient uniforme dans la conduite de diamètres D_2** , la **pression motrice p_2^* est également constante dans la section CD** . Dans tout le problème on suppose l'écoulement stationnaire et le fluide incompressible.



1. Exprimer la perte de charge ΔH produite à l'élargissement brusque entre les sections AB et CD en fonction de ρ , g , p_1^* , p_2^* , V_1 et V_2 .

F P1 J *Ne pas cocher - Réservé au correcteur*

.....
.....
.....
.....
.....
.....
.....



3. En déduire la relation de Borda-Carnot qui exprime la perte de charge ΔH en fonction de V_1 , V_2 et g .

F P1 J *Ne pas cocher - Réservé au correcteur*

.....

.....

.....

.....

.....

.....

.....

.....

.....

.....

4. À l'aide de la relation de Borda-Carnot et de l'expression d'une perte de charge singulière (dans laquelle on utilisera la vitesse la plus rapide) déduire l'expression du coefficient de perte de charge singulière K d'un élargissement brusque en fonction de D_1 et D_2 .

F P1 J *Ne pas cocher - Réservé au correcteur*

.....

.....

.....

.....


.....

.....

.....

.....

.....



Exercice 3 :

On étudie un écoulement plan permanent, irrotationnel d'un fluide parfait. En tout point M de coordonnées cartésiennes (x, y) dans le plan Oxy , l'écoulement est caractérisé par son potentiel complexe :

$$f(z) = Uz + \frac{K}{z}$$

où U désigne la vitesse de l'écoulement à l'infini parallèle à l'axe x et K une constante. On note $z = x + iy$ l'affixe de M (avec $i^2 = -1$).

1. Exprimez le potentiel des vitesses ϕ et la fonction de courant ψ en coordonnées cartésiennes.

F P1 J *Ne pas cocher - Réserve au correcteur*

.....
.....
.....
.....
.....
.....

2. Déterminez les composantes cartésiennes v_x et v_y du champ des vitesses ($\vec{v} = v_x\vec{x} + v_y\vec{y}$) de l'écoulement étudié (les exprimer sous la forme d'une fraction de dénominateur $(x^2 + y^2)^2$).

F P1 J *Ne pas cocher - Réserve au correcteur*

.....
.....
.....
.....
.....
.....

Formulaire :

Équation de continuité (ECM) : $\frac{\partial \rho}{\partial t} + \frac{1}{r} \frac{\partial(\rho r V_r)}{\partial r} + \frac{1}{r} \frac{\partial(\rho V_\theta)}{\partial \theta} + \frac{\partial(\rho V_z)}{\partial z} = 0$

$$\text{grad} \vec{A} = \begin{pmatrix} A_{r,r} & \begin{pmatrix} \frac{A_{r,\theta}}{r} - \frac{A_\theta}{r} \\ \frac{A_{\theta,\theta}}{r} + \frac{A_r}{r} \end{pmatrix} & A_{r,z} \\ A_{\theta,r} & & A_{\theta,z} \\ A_{z,r} & \frac{A_{z,\theta}}{r} & A_{z,z} \end{pmatrix}_{\text{vec}_r, \text{vec}_\theta, \text{vec}_z}$$